

Concours d'entrée à Saint-Jérôme School of Health Sciences

Année Académique 2017-2018

EPREUVE DE TEST PSYCHOTECHNIQUE

Session de Mai 2018

Durée : 30 min

1- Pour chaque ligne, trouvez le groupe de lettres complétant la série.

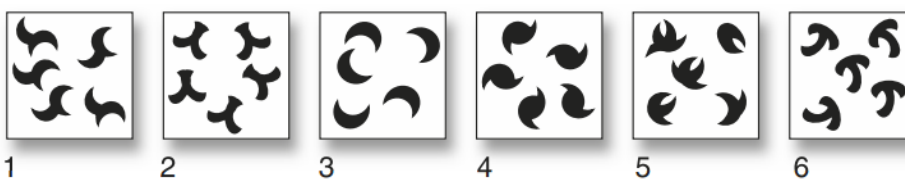
- a- V – T – R – P – N – L – ...
- b- C – F – G – J – K – N – ...
- c- A – F – D – I – G – L – ...
- d- Z – A – C – F – J – O – ...
- e- D – E – H – I – L – M – ...

2- Quels chiffres complètent chaque série ?

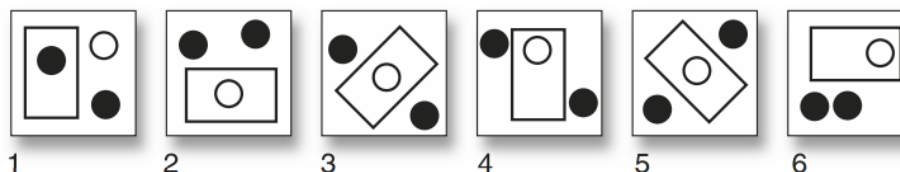
- a- 4 – 9 – 14 – 19 – 24 – 29 – ...
- b- 57 – 49 – 41 – 33 – 25 – 17 – ...
- c- 6 – 7 – 9 – 12 – 16 – 21 – ...
- d- 8 – 11 – 13 – 15 – 17 – 19 – ...
- e- 42 – 41 – 39 – 36 – 35 – 33 – ...

3- Trouver l'intrus :

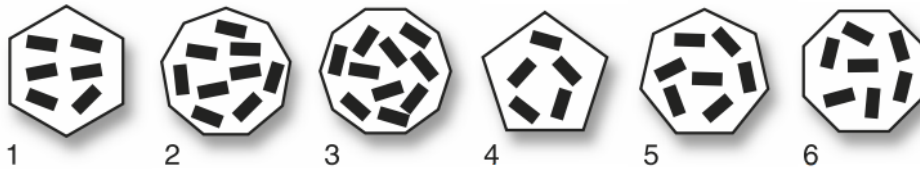
a-



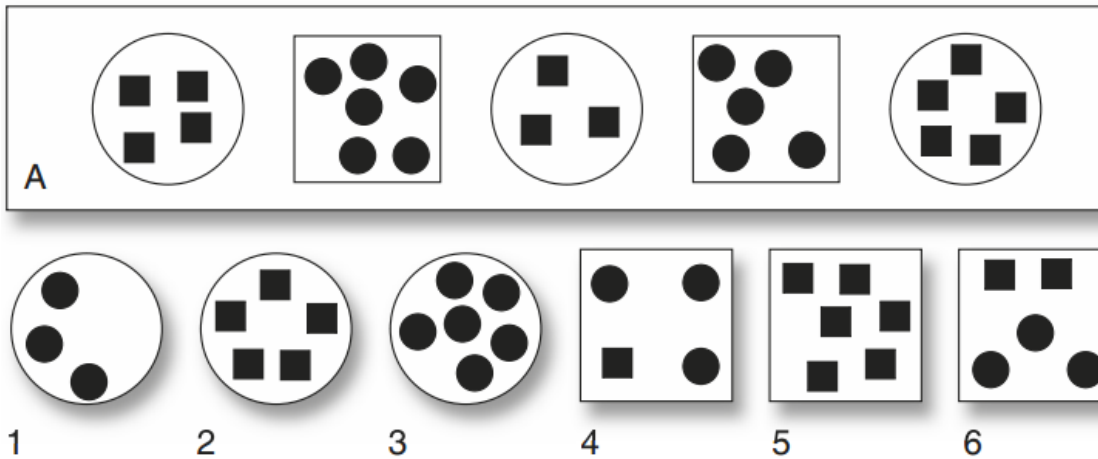
b-



c-



4- Quelle figure numérotée peut s'intégrer logiquement dans l'ensemble A ?



5- Ma sœur a autant de frères que de sœurs. Mon frère a deux fois plus de sœurs que de frères. Combien y a-t-il d'enfants dans notre famille ?

- a. 5 b. 6 c. 7 d. 8 e. 9

6- Dans 20 ans ton âge sera le carré de ton âge actuel. Quel âge as-tu ?

- a. 5 ans b. 6 ans c. 7 ans d. 8 ans e. 9 ans